



PHẦN 3

Bài 3A: Năm Giai Đoạn Của Cuộc Đời Đấng Christ

Bài 3B: Bản Đồ Xứ Pa-lét-tin

Bài 3C: Ba Năm Chức Vụ

Đọc Kinh Thánh: Ma-thi-ơ 4:12- 13:58

Học xong phần này, quý vị sẽ đạt được những mục tiêu sau:

1. Kể tên năm “Giai đoạn” Ma-thi-ơ viết về cuộc đời Đấng Christ, và nêu tên những địa danh liên hệ với mỗi giai đoạn.
2. Tìm được những địa điểm then chốt trên bất cứ bản đồ xứ Pa-lét-tin nào trong thời Đức Chúa Giê-xu Christ: Bết-lê-hem, Na-xa-rét, Ca-bê-na-um, Giê-ru-sa-lem, các vùng Ga-li-lê, Giu-đê và Bê-rê, Địa Trung Hải, biển Ga-li-lê, Biển Chết, sông Giô-đanh, và địa điểm Giăng Báp-tít thi hành chức vụ.
3. Trong khi học Kinh Thánh cá nhân hay khi dạy, mỗi khi nhắc đến những địa danh then chốt này, quý vị thấy chúng hiện ra càng rõ ràng hơn trong trí, nhờ đó có thể mô tả sinh động hơn cho người khác.

BÀI 3A: NĂM GIAI ĐOẠN CUỘC ĐỜI ĐĂNG CHRIST



Có thể chia cuộc đời Chúa Giê-xu thành nhiều giai đoạn.



1. Giai đoạn Thơ Ấu
2. Giai đoạn thanh niên
3. Năm Chuẩn Bị
4. Năm được Mến Mộ
5. Năm khổ nạn
6. Giai đoạn sau phục sinh

1. Các giai đoạn trong cuộc đời Đấng Christ được kể ra trong vòng tròn trên. Ma-thi-ơ viết đủ các giai đoạn trên, ngoại trừ thời **thanh thiếu niên** của Chúa Giê-xu.

Ma-thi-ơ viết năm giai đoạn nào? Hình vẽ có thể giúp quý vị:

1.	_____	
2.	Năm _____	Năm Thứ Nhất Của Chức Vụ
3.	_____	Năm Thứ Hai Của Chức Vụ
4.	_____	Năm Thứ Ba Của Chức Vụ
5.	_____	

Đáp án:

Lưu ý: Khi nói Chúa Giê-xu có ba "năm" thì hành chức vụ, không phải chúng ta bảo tất cả đều là ba năm tròn mười hai tháng theo nghĩa đen, nhưng đúng hơn là những khoảng thời gian độ một năm. Khi tính những thời kỳ này là "năm," chúng ta tin mình có bức tranh tốt nhất về khoảng thời gian tương đối của chúng.

2. Xin xem danh sách trong vòng tròn do Giáo Sư chỉ cho quý vị. Từ danh sách này, Ma-thi-ơ không nói về giai đoạn duy nhất nào trong cuộc đời Chúa Giê-xu? _____
3. Ma-thi-ơ cho chúng ta biết năm giai đoạn:
 1. Giai Đoạn Thơ Ấu
 2. Năm Chuẩn Bị
 3. Năm được Mến Mộ
 4. Năm Khổ Nạn
 5. Giai Đoạn Sau Phục Sinh

Trước khi trả lời các câu sau, xin quý vị đọc kỹ năm chặng cuộc đời của Chúa Giê-xu, được ghi lại trong Phúc Âm Ma-thi-ơ.

Trong giai đoạn nào, Ma-thi-ơ cho chúng ta biết về:

- a) Chúa Giê-xu khi còn là em bé? _____
- b) Chúa Giê-xu sống lại từ kẻ chết? _____
- c) Ba năm chức vụ của Chúa Giê-xu:
 - Năm _____
 - Năm _____
 - Năm _____

4. Mỗi năm trong ba năm chức vụ đó đều khác nhau, như sẽ giải thích dưới đây. Xin học kỹ những điểm khác biệt này.

Năm Chuẩn Bị Chúa Giê-xu ít được ai biết đến.

Năm Được Mến Mộ Nhiều đoàn dân đông đi theo Chúa.

Năm Khổ Nạn Chúa Giê-xu bị khước từ, bị ngược đãi, bị bắt bớ và bị đóng đinh.

(Ghi chú: "Khổ Nạn" nghĩa là chịu khổ)

Năm nào trong năm chức vụ của Chúa Giê-xu:

- a) Tương đối ít người biết Ngài? Năm _____
- b) Có nhiều đoàn dân theo Chúa? Năm _____
- c) Bị khước từ, bị ngược đãi? và bị đóng đinh Năm _____

5. Năm Giai Đoạn của cuộc đời Chúa Giê-xu được liệt kê bên dưới, nhưng chúng đang nằm sai thứ tự.

Năm Khổ Nạn	Giai Đoạn Sau Phục Sinh
Năm Được Mến Mộ	Giai Đoạn Thơ Ấu
Năm Chuẩn Bị	

Bây giờ viết ra từng giai đoạn theo đúng thứ tự.

1. _____ Chúa Giê-xu là em bé.
 2. _____ Tương đối ít người biết Chúa Giê-xu.
 3. _____ Nhiều đoàn dân đông đi theo Chúa.
 4. _____ Chúa bị khước từ, bị ngược đãi.
 5. _____ Chúa Giê-xu sống lại từ kẻ chết.
6. Xin viết đúng thứ tự Năm Giai Đoạn mà không xem câu trên.
1. _____
 2. _____
 3. _____
 4. _____
 5. _____
7. Mỗi giai đoạn trong Năm Giai Đoạn của cuộc đời Chúa Giê-xu liên hệ gắn gũi với một địa danh đặc biệt, chúng ta sẽ gọi là “Địa Danh Liên Hệ,” như sau.

- | | | |
|----------------------------|---|----------------------|
| 1. Giai Đoạn Thơ Ấu | - | Bết-lê-hem |
| 2. Năm Chuẩn Bị | - | Na-xa-rét |
| 3. Năm được Mến Mộ | - | Ca-bê-na-um |
| 4. Năm Khổ Nạn | - | Giê-ru-sa-lem |
| 5. Giai Đoạn Sau Phục Sinh | - | Muôn dân (muôn nước) |

Cho biết Năm Địa Danh Liên Hệ:

1. _____
2. _____
3. _____
4. _____
5. _____

1. Giai Đoạn Thơ Ấu: Bết-lê-hem

8. Bây giờ chúng ta xem giai đoạn đầu tiên, như tiêu đề trên. Xin đọc Ma-thi-ơ 2:1Có hai địa danh được nhắc đến ở đây, là Giê-ru-sa-lem và Bết-lê-hem.
Chúa Giê-xu sanh ra nơi đâu? _____

9. Bài Tập: Bết-lê-hem là địa danh liên hệ với thời thơ ấu của Chúa Giê-xu, vì Ngài sanh ra tại đây. Vậy, mời quý vị dùng bút đỏ khoanh tròn chữ “Bết-lê-hem” trong Ma-thi-ơ 2:1.

2. Năm Chuẩn Bị: Na-xa-rét

10. Sau Bết-lê-hem (và chuyển lánh nạn sang Ê-díp-tô), gia đình Chúa Giê-xu chuyển đến một thành trong xứ Ga-li-lê. Ngài vẫn ở tại nhà Ngài nơi đó trong Năm Chuẩn Bị
Đây là thành nào? (Ma-thi-ơ 2:23) _____

11. Bài Tập: Địa danh liên hệ với Năm Chuẩn Bị là Na-xa-rét, nơi Chúa ở trong thời gian đó. Xin khoanh chữ “Na-xa-rét” trong Ma-thi-ơ 2:23 bằng bút đỏ, như đã làm với “Bết-lê-hem.”

12. Không ai biết chính xác Chúa Giê-xu bao nhiêu tuổi khi Ngài đến Na-xa-rét. Tuy nhiên, chúng ta biết Ngài vẫn còn bé và sống tại Na-xa-rét cho đến cuối Năm Chuẩn Bị.

Đọc Lu-ca 3:23. (Xin lưu ý, ở sách Lu-ca, không phải Ma-thi-ơ) Từ câu này, chúng ta có thể tính phỏng Chúa Giê-xu sống bao nhiêu năm tại Na-xa-rét:

- a. 4 năm.
 b. Khoảng 30 năm.
 c. 50 năm.

13. Đọc Ma-thi-ơ 13:55 rồi đối chiếu với Mác 6:3 (xin cứ mở Kinh Thánh ở cả hai câu này cho đến khi trả lời xong câu hỏi).
Trong hai câu này, câu nào cho chúng ta biết:

- a) **Giô-sép** là thợ mộc? _____
b) **Chúa Giê-xu** cũng là thợ mộc? _____

14. Chúa Giê-xu đã sống và làm việc tại thành này suốt nhiều năm. Vì vậy, thỉnh thoảng người ta gọi Ngài là (xem Mác 16:6; 10:47):

“Giê-xu người _____.”

15. Rồi Chúa Giê-xu nhanh chóng dời chỗ ở khỏi Na-xa-rét: Năm Chuẩn Bị là năm cuối cùng Chúa Giê-xu ở tại đó.

Chúa Giê-xu thi hành chức vụ tại thành nào vào cuối Năm Chuẩn Bị?

Đọc Lu-ca 4:16. _____

16. Nguyên nhân nào làm Ngài nhanh chóng đổi chỗ ở vào cuối Năm Chuẩn Bị? Lu-ca 4:28- 31.

- a. Ngài không thích Na-xa-rét
- b. Ngài muốn sống gần biển
- c. Ngài bị người chung quanh kéo ra ngoài thành và suýt bị giết

17. Chúa Giê-xu bị kéo ra khỏi thành nào vào cuối Năm Chuẩn Bị, sau khi sống nơi đó gần 30 năm? _____

18. a) Chúa Giê-xu đã sống tại Na-xa-rét bao nhiêu năm?

Khoảng _____ năm.

b) Trong ba Năm Chức Vụ của Chúa Giê-xu, năm nào là năm cuối tại Na-xa-rét? _____

19. Năm cuối của Chúa Giê-xu tại Na-xa-rét, là Năm Chuẩn Bị, hoàn toàn khác những năm Chúa đã sống tại đây, vì trong năm đó, Chúa bắt đầu chức vụ công khai của Ngài.

Chúa Giê-xu bỏ công việc nào để cống hiến

trọn vẹn cho chức vụ của Nước Trời? _____

20. Vì vậy, trong năm cuối tại Na-xa-rét, thay vì là một xưởng mộc âm thầm, nhà Chúa đã trở thành trung tâm để Chúa Giê-xu từ đó đi ra khắp miền Pa-lét-tin trong chức vụ mới của nước trời.

Thành nào là trung tâm cho chức vụ mới của Ngài trong Năm Chuẩn Bị? _____

21. Xin đọc các câu sau và cho biết đúng hay sai.

- A. Chúa Giê-xu tiếp tục nghề mộc trong năm cuối của Ngài tại Na-xa-rét.
- B. Trong năm cuối tại Na-xa-rét, nhà Ngài trở thành trung tâm cho chức vụ mới của Ngài trong các miền khác của Pa-lét-tin.

Trong hai câu trên, là “A” và “B”, câu nào đúng?

- Cả “A” và “B”
- Chỉ câu “A”
- Chỉ câu “B”
- Cả hai câu đều sai

22. Trong hầu hết Năm Chuẩn Bị, Chúa Giê-xu từ Na-xa-rét đi về phía nam đến sông Giô-đanh, nơi Giảng Báp-tít đang thi hành chức vụ rất thành công. Tại đó, Chúa hòa mình với đám đông, âm thầm (Giăng 1:26), vì đây vẫn là Năm Chuẩn Bị.

Câu nào dưới đây mô tả Chúa Giê-xu trong Năm Chuẩn Bị?

- a. Nổi tiếng và rất thành công
- b. Bị chối bỏ, bị ngược đãi, và bị đóng đinh
- c. Gần như không ai biết đến Ngài

23. a) Năm nào trong ba năm chức vụ là năm cuối của Ngài tại Na-xa-rét? _____

b) Chúa Giê-xu ở đâu khi Ngài bắt đầu chức vụ trong xứ Pa-lét-tin trong Năm Chuẩn Bị? _____

3. Năm Được Mến Mộ: Ca-bê-na-um

24. Đọc Ma-thi-ơ 4:13. Vào đầu Năm Được Mến Mộ, Chúa Giê-xu rời nhà Ngài tại a) _____ đến chỗ ở mới tại b) _____

25. **Bài Tập:** Địa danh liên hệ với Năm Được Mến Mộ là thành Ca-bê-na-um, vì đây là nơi Chúa ở và là trung tâm chức vụ rất thành công của Ngài trong năm này. Xin khoanh tròn bằng viết đỏ chữ "Ca-bê-na-um" trong Mathiơ 4:13.

26. Theo Ma-thi-ơ 4:13, thành phố nơi Chúa mới dời đến:

- a. ở trên núi.
- b. ở bên biển hồ (biển Ga-li-lê).
- c. ở trong sa mạc.

27. Thành Ca-bê-na-um rất lớn so với Na-xa-rét, do đó là trung tâm lý tưởng cho chức vụ đang phát triển. Thành này nằm bên **Biển Ga-li-lê**, nơi hàng ngàn thuyền đánh cá và thuyền chuyên chở qua lại. Thực ra, toàn vùng là trung tâm thương mại quan trọng. Ca-bê-na-um là khu sinh hoạt và thịnh vượng.

Nơi đâu sẽ là trụ sở tốt hơn cho Chúa trong Năm Được Mến Mộ, Ca-bê-na-um hay Na-xa-rét? _____

28. Ca-bê-na-um là điểm khởi đầu thật đặc biệt cho chức vụ của Chúa. Chẳng bao lâu danh Ngài đồn vang khắp vùng, là đầu đề cho nhiều cuộc tranh luận trên các tàu thuyền trên biển, cũng như từng nhà trong vùng. Nhiều đoàn dân đông bắt đầu đi theo Ngài. Đây là Năm Được Mến Mộ của Ngài.

Tin đồn về Ngài lan xa đến đâu trong Năm Được Mến Mộ?

Đọc Ma-thi-ơ 4:24 _____

29. a) Nhà của Chúa và trụ sở thi hành chức vụ của Ngài trong Năm Chuẩn Bị là _____
- b) Nhà của Chúa và trụ sở thi hành chức vụ của Ngài trong Năm Được Mến Mộ là _____

4. Năm Khổ Nạn: Giê-ru-sa-lem

30. Nhưng thật buồn, năm Chúa Giê-xu được mến mộ rất ngắn ngủi, dần dần dân chúng lia bỏ Ngài. Năm cuối của Ngài là **Năm Khổ Nạn**, khi đó Chúa Giê-xu bị khước từ, bị ngược đãi, rồi cuối cùng bị đóng đinh tại thành _____
Đọc Ma-thi-ơ 6:21 để tìm câu trả lời.

31. **Bài tập:** Địa danh liên hệ với Năm Khổ Nạn là Giê-ru-sa-lem, nơi Chúa Giê-xu bị đóng đinh. Xin khoanh tròn chữ "Giê-ru-sa-lem" trong Ma-thi-ơ 16:21 bằng bút đỏ.

32. Ba hình sau tượng trưng cho ba Năm Chức Vụ nhưng đặt sai thứ tự.

Hình nào tượng trưng cho:

- a) Năm Chuẩn Bị? _____ Hình _____
- b) Năm Được Mến Mộ? _____ Hình _____
- c) Năm Khổ Nạn? _____ Hình _____



33. Chúa Giê-xu chết tại thủ đô của Pa-lét-tin.
Thủ đô Pa-lét-tin tên gì? _____

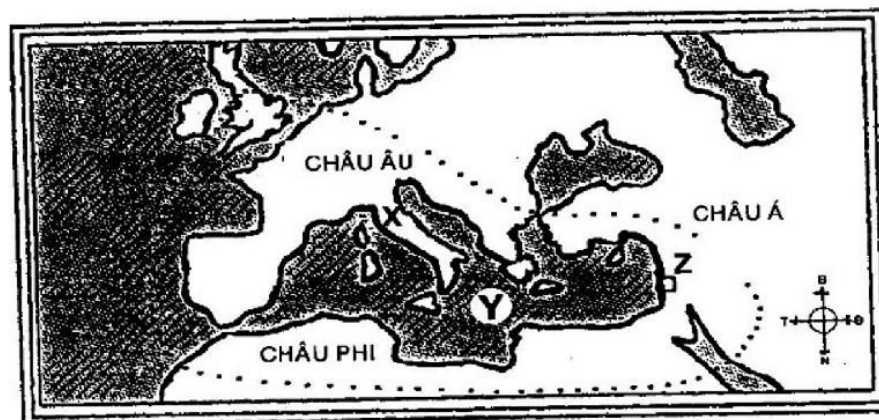
5. Giai Đoạn Sau Phục Sinh: Muôn Dân, Muôn Nước

34. Đọc Ma-thi-ơ 28: 18, 19. Chúa Giê-xu không nằm luôn trong mộ; đến ngày thứ ba, Đức Chúa Trời khiến Chúa Giê-xu từ kẻ chết sống lại và ban cho Ngài mọi quyền phép trên trời dưới đất, để đưa nước Ngài đến với _____
35. **Bài tập:** “Địa Danh Liên Hệ” cho giai đoạn cuối này, Giai Đoạn Sau Phục Sinh của Chúa, là “muôn dân” (muôn nước). Xin dùng bút đỏ khoanh chữ “muôn dân” trong Ma-thi-ơ 28:19.
36. Các **Địa Danh Liên Hệ** của chúng ta đang đặt sai thứ tự, là:
Giê-ru-sa-lem ∴ Muôn Dân ∴ Bết-lê-hem
Na-xa-rét ∴ Ca-bê-na-um

Xin viết **Địa Danh Liên Hệ** vào chỗ trống, hợp với giai đoạn:

- | | |
|----------------------------------|--|
| 1. Giai Đoạn Thơ Ấu _____ | Nơi Chúa sinh ra |
| 2. Năm Chuẩn Bị _____ | Nơi Chúa rời tiệm mộc |
| 3. Năm Được Mến Mộ _____ | Nơi ở mới gần bờ biển |
| 4. Năm Khổ Nạn _____ | Nơi Chúa chịu chết |
| 5. Giai Đoạn Sau Phục Sinh _____ | Mọi nơi nào Tin Lành được rao giảng ra |
37. Xin viết **Năm Địa Danh Liên Hệ** (không xem câu trên).
- Giai Đoạn Thơ Ấu _____
 - Năm Chuẩn Bị _____
 - Năm được Mến Mộ _____
 - Năm Khổ Nạn _____
 - Giai Đoạn Sau Phục Sinh _____
38. Xin viết ra Năm Giai Đoạn (vui lòng không nhìn câu trên).
- _____ Bết-lê-hem.
 - _____ Na-xa-rét.
 - _____ Ca-bê-na-um.
 - _____ Giê-ru-sa-lem.
 - _____ Muôn dân.
39. Bây giờ mời quý vị làm bài kiểm 3A (trang 233).

BÀI 3B: BẢN ĐỒ XỨ PA-LẾT-TIN



Quý vị còn nhớ bản đồ Đế Quốc La-mã từ phụ lục 1 không? Trong Bài này chúng ta sẽ tập trung vào Pa-lết-tin và nghiên cứu các vùng, các hồ và con sông chính. Chúng ta cũng nghiên cứu các thành Bết-lê-hem, Na-xa-rét, Ca-bê-na-um và Giê-ru-sa-lem. Nhưng trước hết, chúng ta ôn lại một chút.

- Xin viết tên những địa danh được đánh dấu trên bản đồ bằng những mẫu tự sau:
X. _____
Y. _____
Z. _____
- Rô-ma cách Pa-lết-tin khoảng bao nhiêu dặm? _____
- Bây giờ xem Phụ Lục 2. Xin quý vị tưởng tượng giấy lát như thể chúng ta đang bay trên vùng Pa-lết-tin. Chúng ta có thể thấy Pa-lết-tin qua khung cửa sổ, như trong phụ lục 2.
Quý vị có thể thấy bờ biển Pa-lết-tin dọc biển Địa Trung Hải. Bờ biển này ở phía đông hay phía tây của Pa-lết-tin? (Kiểm lại các điểm này theo hướng la bàn.)
Lưu ý: Xin đánh dấu phụ lục 2, vì chúng ta sẽ dùng thường xuyên trong bài học này.

4. Sông Giô-đanh chảy từ bắc xuống nam, chia Pa-lét-tin thành hai phần. Tìm sông Giô-đanh trong Phụ Lục 2.

Đọc theo sông Giô-đanh có hai hồ. (Xem Phụ Lục 2 để tìm tên gọi của hai hồ này)

- a) Hồ ở phía bắc được gọi là biển _____
b) Hồ ở phía nam được gọi là biển _____

5. **Bài tập:** trong phụ lục 2, xin tô màu xanh dương (tượng trưng cho nước) cho:

1. Biển Ga-li-lê
2. Biển Chết
3. Dòng sông Giô-đanh từ nguồn phía bắc đến cửa sông đổ vào Biển Chết
4. Bờ biển Địa Trung Hải

Lưu ý: biển Chết mang tên như vậy vì có rất nhiều muối khoáng hòa tan trong nước biển đến nỗi không thứ gì sống hoặc lớn nổi trong biển này.

6. Biển (hồ) nào trong xứ Pa-lét-tin:

- a) có diện tích nhỏ hơn? _____
b) có diện tích lớn hơn? _____

7. Cả biển Ga-li-lê và Biển Chết đúng ra là hồ chứ không phải những biển khơi thật sự như biển lớn Địa Trung Hải.

Biển nào, Ga-li-lê hay Địa Trung Hải:

- a) dài 3000 dặm? _____
b) dài 12 dặm rưỡi và rộng 7 dặm rưỡi _____

8. a) Biển Ga-li-lê dài bao nhiêu? _____
b) Biển Ga-li-lê rộng bao nhiêu? _____

9. Xem phụ lục 2, rồi xếp theo thứ tự từ **lớn đến nhỏ** của biển Ga-li-lê, biển Chết và Địa Trung Hải.

- a) _____
b) _____
c) _____

10. Ba biển sau đây, biển nào:

- a) là biển khơi thật? _____
b) hồ phía bắc? _____
c) hồ phía nam? _____

11. Bây giờ, chúng ta ôn Năm Giai Đoạn trong cuộc đời Đấng Christ kèm với Địa Danh Liên Hệ, đã học ở bài trước.

Điền vào khoảng trống dưới đây

	Năm Giai Đoạn	Địa Danh Liên Hệ
1.	_____	_____
2.	_____	_____
3.	_____	_____
4.	_____	_____
5.	_____	_____

12. Cũng giống nhiều quốc gia ngày nay, vào thời Chúa Giê-xu, Pa-lét-tin được chia thành nhiều vùng. Các vùng tại Pa-lét-tin ít nhiều giống các Tiểu Bang của Hoa Kỳ. Xem lại bản đồ trong Phụ Lục 2. Có thể tìm thấy tên các vùng của xứ Ga-li-lê và Giu-đê trên bản đồ. Trong vùng nào, quý vị thấy:

- a) Ca-bê-na-um và Na-xa-rét? _____
b) Giê-ru-sa-lem và Bết-lê-hem? _____

13. **Bài tập:** trong phụ lục 2, ranh giới của các vùng Ga-li-lê và Giu-đê được đánh dấu bằng đường gạch nối.

1. Theo đường gạch nối, vẽ đường màu xanh lá cây quanh vùng Ga-li-lê.
 2. Dùng viết đỏ vẽ chung quanh vùng Giu-đê theo đường gạch nối.

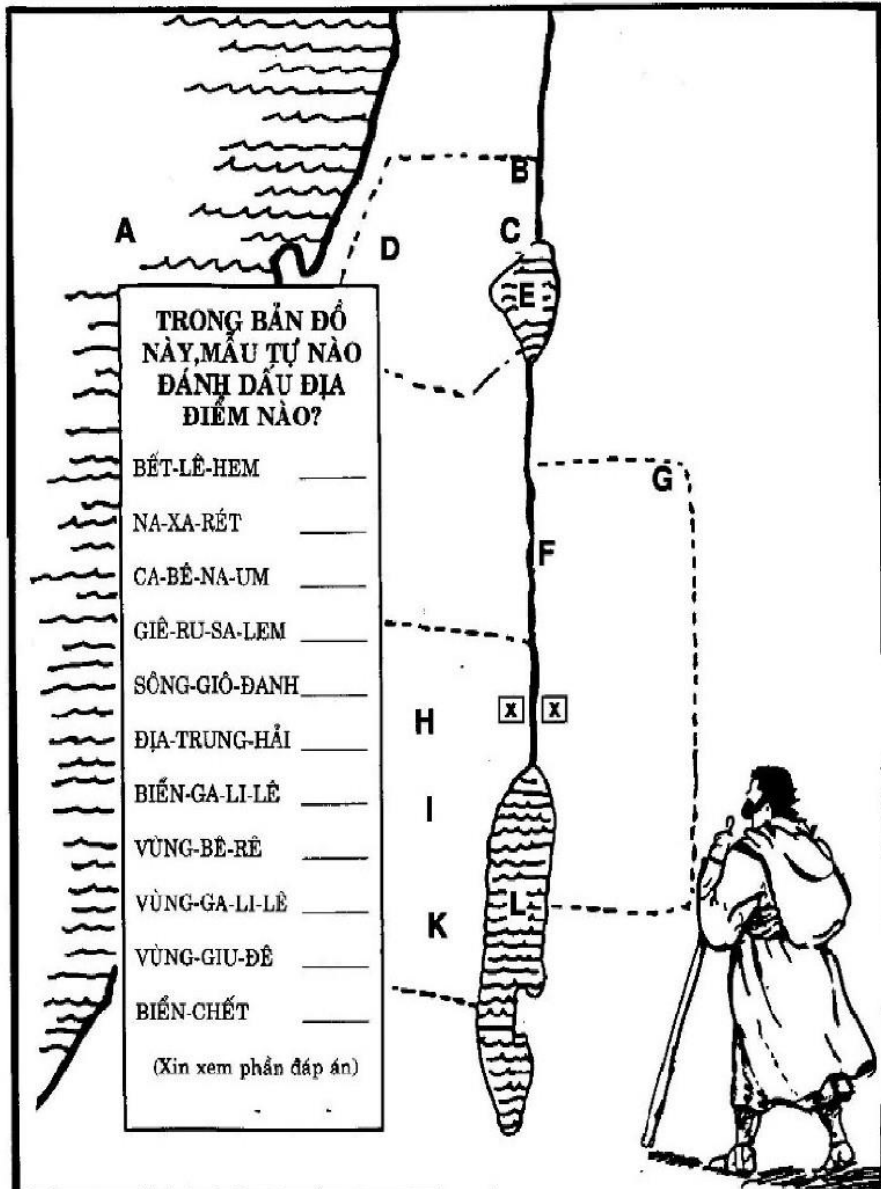
14. Xin xem kỹ nhà của Chúa và trụ sở thi hành chức vụ của Ngài trong vùng Ga-li-lê trên bản đồ.

- a) Giờ đây vùng này được tô màu gì? _____
b) Hai thành được ghi trên bản đồ trong vùng Ga-li-lê tên gì? _____ và _____

15. Dầu Na-xa-rét và Ca-bê-na-um ở cùng vùng Ca-bê-na-um, nhưng quý vị có thể dễ dàng nói chúng cách xa nhau, vì một thành ở bên bờ hồ, còn thành kia thì không.
Thành nào nằm bên hồ? _____
16. Bây giờ nghiên cứu bản đồ của quý vị ở Phụ Lục 2 để biết khác biệt giữa vị trí của thành Ca-bê-na-um và Na-xa-rét.
Quý vị có thể dễ dàng nói chúng ở xa nhau vì Ca-bê-na-um nằm bên biển a) _____ còn thành b) _____ nằm trong đất liền.
17. Quý vị cũng có thể nói chúng cách xa nhau vì vị trí của chúng trong vùng Ga-li-lê. Thành nào:
a) Nằm gần phía bắc hơn? _____
b) Nằm gần phía nam hơn? _____
18. Xin nhớ hồ và vùng có thành Ca-bê-na-um mang cùng tên.
Tên là gì? _____
19. Bây giờ xin quý vị xem vùng Giu-đê trong Phụ Lục 2.
Vùng này được tô màu gì? _____
20. Hai thành được đánh dấu trong vùng Giu-đê tên gì?
_____ và _____
21. Chúng ta cũng có thể phân biệt hai thành phố được đánh dấu trong vùng Giu-đê – là Giê-ru-sa-lem và Bết-lê-hem.
Thành nào:
a) Gần phía bắc hơn? _____
b) Gần phía nam hơn? _____
22. a) Chúa Giê-xu được sinh ra trong vùng (không phải thành) nào? _____
b) Chúa Giê-xu chịu chết ở vùng nào? _____
c) Chúa Giê-xu sinh ra trong thành ở phía bắc hay phía nam kinh đô? _____
23. Nếu quý vị vẫn chưa nắm vững những vị trí tại Pa-lét-tin, xin ôn kỹ lại trong phụ lục 2 trước khi trả lời câu hỏi này.
Bây giờ xin mở sang phụ lục số 3 (xin nhớ đây là số ba, chứ không phải hai). Mẫu tự nào trong phụ lục 3 đánh dấu địa điểm của:
a) Bết-lê-hem? _____ f) Vùng Giu-đê? _____
b) Na-xa-rét? _____ g) Địa Trung Hải? _____
c) Ca-bê-na-um? _____ h) Biển Ga-li-lê? _____
d) Giê-ru-sa-lem? _____ i) Biển Chết? _____
e) Vùng Ga-li-lê? _____
24. Quý vị còn nhớ Năm Địa Danh Liên Hệ chứ?
Địa Điểm Liên Hệ duy nhất nào nằm bên ngoài Pa-lét-tin? _____
25. Trở lại phụ lục 2 (không phải Phụ Lục 3).
Chúng ta đã nghiên cứu hai vùng Ga-li-lê và Giu-đê.
Hai vùng này ở phía đông hay phía tây sông Giô-đanh? _____
26. Trong phụ lục 2 chúng ta có thể thấy một vùng khác gọi là Bê-rê. Vùng này nằm phía nào của sông Giô-đanh, phía đông hay tây? _____
27. Bài tập: vẽ đường màu xanh lá cây quanh vùng Bê-rê theo hàng gạch có sẵn.
28. Tên của vùng ở phía đông sông Giô-đanh? _____
29. Sông nào tách vùng Giu-đê khỏi vùng Bê-rê? Sông _____

*Lưu ý: Chúng ta sẽ để bài kiểm lại vào cuối bài học kế tiếp.
Còn bây giờ, mời quý vị xem lại Phụ Lục 2.*

BÀI 3C: BA NĂM CHÚC VỤ



- Chúng ta cùng ôn lại Ba Năm Chúc Vụ Công Khai của Chúa Giê-xu, dùng bản đồ Pa-lét-tin. Trong **Năm Chuẩn Bị**, Chúa Giê-xu ở tại a) _____ nhưng Ngài đã rời tiệm mộc đến yếm trợ Giăng b) _____ ở miền Nam.
- Khu vực Giăng đang làm báp-têm được đánh dấu trong phụ lục 2 bằng chữ "G. B". Xin tìm mẫu tự này.
Dựa theo mẫu tự "G. B", cho biết
Giăng làm phép báp-têm ở sông nào? _____
- Con sông nơi Chúa Giê-xu bắt đầu chúc vụ, sau khi chịu Giăng Báp-tít làm phép báp-têm, tên gì? Ma-thi-ơ 3:13 _____
- Xin xem lại khu vực nơi Giăng đang làm phép báp-têm, được đánh dấu bằng mẫu tự "G. B." Xem kỹ, ta thấy khu vực này gồm cả hai bên bờ sông Giô-đanh, chứng tỏ Giăng đang làm báp-têm ở **cả hai bên bờ sông**.
Nói cách khác, Giăng đã làm phép báp-têm trong vùng a) B _____ cũng như trong vùng b) _____
- Bây giờ xin quý vị xem **phụ lục 4**. Đây là **cũng bản đồ Pa-lét-tin**, nhưng thay vì ghi các địa danh hoặc mẫu tự đánh dấu các địa điểm, giờ đây chỉ là hàng gạch, để quý vị điền tên chúng vào, đừng xem lại bài học. Viết trên hàng gạch tên của:
 - Ba vùng chúng ta đã học.
 - Các **Địa Danh Liên Hệ** ngoại trừ địa danh cuối cùng: Muôn dân, muôn nước.
(Nhớ kiểm tra với phần đáp án)
- Xin mở **phụ lục 6**. Những hình này nói lên Ba Năm Chúc Vụ của Chúa Giê-xu. Xin xem hình 1.
 - Nơi đây Chúa Giê-xu đang bỏ công việc của Ngài để bắt đầu chúc vụ. Ngài bỏ công việc nào? _____
 - Chúng ta thấy Chúa Giê-xu sắp đi đến nơi Ngài sẽ chuẩn bị cho chúc vụ bằng cách hợp tác với Giăng Báp-tít. **Lưu ý bảng chỉ đường trong hình.**
Chúa sẽ đi đâu? _____

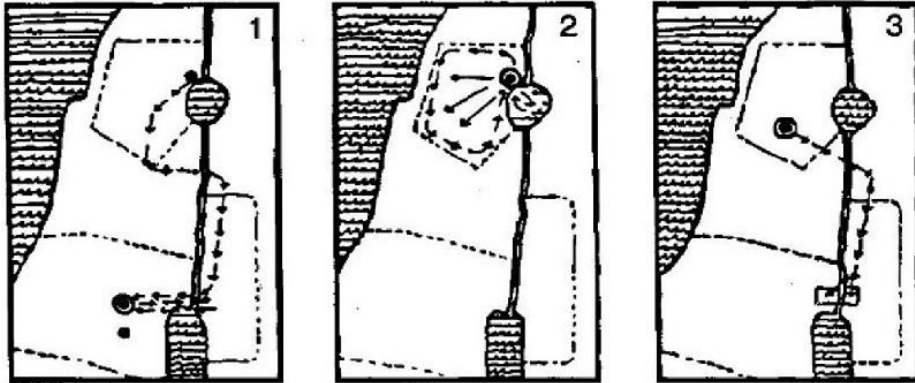
(Còn tiếp)

6. (Tiếp Theo)
- c) Lưu ý rằng Chúa vẫn ở trong cùng một thành.
Chúa Giê-xu ở trong thành nào? _____
- d) Hình 1 tương ứng với năm nào
trong chức vụ của Chúa Giê-xu? _____
7. Xem hình 2 (vẫn trong Phụ Lục 6).
- a) Ai đang được Giảng
làm phép báp-têm cho? _____
- b) Tại sông nào? _____
- c) Giảng đang làm báp-têm trong hai vùng nào?
_____ và _____
- d) Hình 2 tương ứng với năm nào
trong ba năm chức vụ
của Chúa Giê-xu? _____
8. Trong Năm Chuẩn Bị, Chúa Giê-xu ở tại thành a) _____
trong vùng b) _____ nhưng chức vụ của Ngài
chủ yếu thi hành trên các bờ sông c) _____ trong
hai vùng d) _____ và e) _____
nơi Giảng f) _____ đang làm phép báp-têm.
9. Có lẽ quý vị thấy lạ khi thấy Na-xa-rét—trong vùng a) _____
lại là địa danh liên hệ với Năm b) _____ là lúc chức
vụ của Chúa Giê-xu chủ yếu thi hành bên bờ sông Giô-đanh
trong vùng Giu-đê và Bê-rê. Chúng ta phải nhớ rằng: dầu Chúa
Giê-xu yểm trợ Giảng Báp-tít ở phía nam trong Năm Chuẩn
Bị, Na-xa-rét vẫn là c) _____ của Ngài, Ngài từ đó lui tới
miền nam cũng như các nơi khác.
10. Xin xem hình 3 (phụ lục 6). Các mũi tên tượng trưng các chuyến
đi của Chúa Giê-xu.
- a) Các mũi tên xuất phát
từ thành nào? _____
- b) Mũi tên chỉ đến hai vùng nào, cho biết nơi Giảng Báp-tít đang
làm phép báp-têm?
_____ và _____
- c) Bản đồ này tương ứng với
năm nào trong ba năm chức vụ
của Chúa Giê-xu? _____
11. Quý vị có thấy cả ba hình này tương ứng với cùng một năm
chức vụ của Chúa Giê-xu không?
Đó là năm nào? _____
12. Sau khi bị người lân cận kéo ra khỏi thành Na-xa-rét,
Chúa Giê-xu đến ở tại một thành bên hồ, thành này
tên là a) _____ vào lúc bắt đầu Năm
b) _____ của Ngài.
13. Xin xem Hình 4 (bốn) trong Phụ Lục 6.
- a) Chúa Giê-xu giảng dạy tại trước thành
nào, Na-xa-rét hay Ca-bê-na-um? _____
- b) Thuyền nằm trên biển nào? _____
- c) Tại vùng nào? _____
- d) Hình 4 tương ứng với năm nào
trong chức vụ của Chúa Giê-xu? _____
14. Chúa Giê-xu đã giảng trong vùng (chứ không phải thành)
nào trong Năm Mến Mộ của Ngài? Xin đọc Ma-thi-ơ 4:23.

15. Xin xem hình 6 (phụ lục 6).
- Mũi tên xuất phát từ thành nào? _____
 - Theo mũi tên, Chúa Giê-xu thi hành chức vụ tại vùng nào trong năm này? _____
 - Hình 6 tương ứng với năm nào trong chức vụ của Chúa Giê-xu? _____
16. Thành a) _____ bên hồ là nơi lý tưởng để từ đó Chúa Giê-xu có thể dễ dàng đi đến khắp nơi trong vùng b) _____ trong năm c) _____ không những bằng đường bộ, mà còn (theo các mũi tên trong Hình 6) bằng d) _____
17. Vì Chúa Giê-xu dành trọn thì giờ thi hành chức vụ trong chính vùng của Ngài, Năm Mến Mộ thường được gọi là “chức vụ tại vùng _____”
18. a) Biển Ga-li-lê rộng bao nhiêu? _____
b) Dài bao nhiêu? _____
19. Chúa Giê-xu thi hành chức vụ rất thành công tại Ga-li-lê trong năm nào? _____
20. Xem hình 7 trong phụ lục 6.
- Chúa Giê-xu đang đến thành nào? _____
 - Trong vùng nào? _____
 - Có chuyện gì xảy ra tại đó? _____
 - Hình 7 tương ứng với năm nào trong chức vụ của Chúa Giê-xu? _____
21. Trong Năm Khổ Nạn, Chúa Giê-xu hoàn tất chức vụ Ngài tại vùng Ga-li-lê, và **quay lại** những nơi Ngài từng đến trước đó với Giăng Báp-tít trong Năm Chuẩn Bị. Nói cách khác, Chúa Giê-xu trở lại hai vùng _____ và _____
22. a) Chúa Giê-xu đã thi hành **chức vụ** (không phải ở) tại hai vùng Giu-đê và Bê-rê trong **hai** năm nào? _____ và _____
b) Ngài thi hành chức vụ tại **vùng Ga-li-lê** trong năm nào? _____
23. Xin xem hình 9 (phụ lục 6). Các mũi tên trình bày những chuyến đi của Chúa.
- Theo mũi tên, Chúa Giê-xu rời thành nào vào đầu chuyến đi này? _____
 - Theo mũi tên, Chúa Giê-xu đã rời khỏi vùng nào? _____
 - Theo mũi tên, Chúa Giê-xu đi đến thành nào? _____
 - Các mũi tên cho biết Chúa Giê-xu thi hành tại hai vùng nào sau khi Ngài rời Ga-li-lê? _____ và _____
 - Hình 9 ứng với năm nào của chức vụ Ngài? _____
24. Tiếp tục xem Phụ Lục 6, đối chiếu hình 3 với hình 9. Trong cả hai bản đồ, các mũi tên cho thấy lúc này Chúa Giê-xu chủ yếu thi hành chức vụ trong hai vùng a) _____ và _____ Quý vị có thể phân biệt vì trong Hình 3, mũi tên xuất phát từ thành b) _____ là nơi ở của Ngài trong c) _____ nhưng trong hình 9, mũi tên cho thấy Chúa Giê-xu rời khỏi thành d) _____ để đến thành e) _____ Nhờ đó, chúng ta biết hình 9 tương ứng với Năm f) _____

25. Mỗi hình (bản đồ) dưới đây cho thấy một trong Ba Năm Chức Vụ của Chúa Giê-xu, nhưng đặt sai thứ tự. Hình nào cho thấy:

- a) Năm Chuẩn Bị? _____ Hình _____
 b) Năm Mến Mộ _____ Hình _____
 c) Năm Khổ Nạn? _____ Hình _____



26. a) Chúa Giê-xu thi hành chức vụ tại Ga-li-lê trong năm nào?
 Năm _____
 b) Chúa Giê-xu thi hành chức vụ tại Bê-rê và Giu-đê trong hai năm nào?
 Năm _____ và Năm _____

27. Xem lại bản đồ ở trang bìa bài 3C này. Viết tên các vị trí được đánh dấu trên bản đồ này ứng với mỗi mẫu tự sau đây:

- A. _____ G. _____
 B. _____ H. _____
 C. _____ I. _____
 D. _____ J. _____
 E. _____ K. _____
 F. _____ L. _____

28. Bây giờ mời quý vị làm bài kiểm dành cho bài 3B và 3C (trang 234)



PHẦN 4

Bài 4A: Hệ Thống “Những Cây Cầu”

Bài 4B: Cấu Trúc Của Phúc Âm Ma-thi-ơ

Đọc Kinh Thánh: Ma-thi-ơ 14:1- 28:20

Học xong phần này, quý vị sẽ đạt được những mục tiêu sau:

1. Kể tên “giai đoạn” trong đời sống của Đấng Christ có biến cố được ghi lại trong Phúc Âm Ma-thi-ơ.
2. Kể lại đời sống của Đấng Christ bằng cách mô tả vấn tắt đúng thứ tự cả năm giai đoạn (và phần giới thiệu). Với mỗi giai đoạn, quý vị sẽ có thể nêu (những) đoạn đã ghi lại biến cố đó trong Phúc Âm Ma-thi-ơ, tên gọi và tầm quan trọng của địa danh liên hệ, và biến cố song song trong cuộc đời Giảng Báp-tít.

BÀI 4A: HỆ THỐNG “NHỮNG CÂY CẦU”



Quý vị đã nắm vững Năm Giai Đoạn trong cuộc đời Chúa Giê-xu, nhưng quý vị có biết tìm chúng ở đâu trong Kinh Thánh không? Rất dễ tìm nhờ dùng hệ thống “những cây cầu” sẽ học trong bài này. Nhưng trước hết chúng ta ôn lại bằng cách xem biểu đồ dưới đây:

	Năm Giai Đoạn (và Phần Giới Thiệu)	Các Đoạn Trong Ma-thi-ơ
BÁO TIN CHÚA GIÁNG SINH	Phần Giới Thiệu	1
	Thời Thơ Ấu	2
NĂM CHỨC VỤ THỨ NHẤT	Năm Chuẩn Bị	3 đến 4 (câu 11)
NĂM CHỨC VỤ THỨ NHỊ	Năm Được Mến Mộ	4 (câu 12) đến 13
NĂM CHỨC VỤ THỨ BA	Năm Khổ Nạn	14 đến 27
 CHÚA SỐNG	Giai Đoạn Sau Phục Sinh	28

1. Bây giờ chúng ta đã sẵn sàng xem Năm Giai Đoạn của cuộc đời Chúa Giê-xu do Ma-thi-ơ kể lại.

Chủ đề chính của Ma-thi-ơ là gì? _____ Thiên Đàng

Phần Giới Thiệu

2. Ma-thi-ơ đoạn 1 là “Phần Giới Thiệu” Năm Giai Đoạn trong cuộc đời Chúa Giê-xu, và cho biết những biến cố xảy ra trước khi Chúa giáng sinh.


Theo Ma-thi-ơ 1:6, ai trong số các tổ phụ của Chúa Giê-xu là vua? _____

3. Bài tập: gạch dưới chữ “vua” trong Ma-thi-ơ 1:6 bằng bút đỏ.
4. Bây giờ xin đọc trong Lu-ca 1:31-33 lời thiên sứ Gáp-ri-ên nói với Ma-ri trước khi Chúa Giê-xu giáng sinh.
 - a) Ai ngồi trên ngai? _____
 - b) Chúa Giê-xu sẽ ngồi trên ngai nào? _____
 - c) Chúa Giê-xu sẽ cai trị bao lâu? _____
5. Đọc Lu-ca 2:4.
Nhiều năm trước khi Chúa Giê-xu giáng sinh, vị vua vĩ đại nào đã ra đời tại Bết-lê-hem? _____
6. Đoạn nào trong Ma-thi-ơ cho chúng ta “Phần Giới Thiệu” cuộc đời Chúa Giê-xu? Nếu quý vị không nhớ, xin xem lại biểu đồ ở trang tiêu đề bài 4A này. Đoạn _____

Thời Thơ Ấu

7. Xin xem những câu Kinh Thánh sau. Dấu tên Đa-vít không thật sự được nhắc đến trong câu này, nhưng câu nào cho chúng ta biết Chúa Giê-xu sinh ra trong thành của Đa-vít?

_____ Ma-thi-ơ 2:1 _____ Ma-thi-ơ 2:14 _____ Ma-thi-ơ 2:23



8. Bài tập: để dễ tìm trong Ma-thi-ơ chỗ bắt đầu giai đoạn thứ nhất, xin quý vị viết chữ “Thời Thơ Ấu” trên Ma-thi-ơ 2:1, rồi gạch dưới bằng bút đỏ.
9. Bây giờ sau khi ghi chú kỹ vị trí cây cầu đầu tiên, xếp Kinh Thánh rồi mở ra tìm lại lần nữa. Làm tiếp như vậy cho đến khi quý vị dễ dàng tìm được khởi đầu của Thời Thơ Ấu.
10. Trong đoạn nào, Ma-thi-ơ cho chúng ta:
- a) Phần Giới Thiệu? _____
- b) Thời Thơ Ấu? _____
- Nếu không nhớ, xin xem lại bố cục ở trang tiêu đề bài 4A này.

11. Mari và Giô-sép không sống tại Bết-lê-hem; nhà họ ở tại Na-xa-rét. Nhưng đến ngày Ma-ri sắp sanh Chúa Giê-xu, Đức Chúa Trời mới đưa họ đến Bết-lê-hem. Nếu Chúa Giê-xu là vị vua sẽ ngồi trên ngai Đa-vít, nơi thích hợp cho Ngài ra đời là Bết-lê-hem hay Na-xa-rét?

12. Vì lý do nào vua Giê-xu phải sanh tại Bết-lê-hem, chứ không phải tại nhà của Ma-ri và Giô-sép ở Na-xa-rét?

Vì Bết-lê-hem là thành của _____

13. Đọc Ma-thi-ơ 2:1, 2.

- a) Các nhà thông thái đã gọi hài nhi mới sanh tại Bết-lê-hem bằng danh xưng nào? _____
- b) Vua dân Giu-đa sẽ sanh tại Bết-lê-hem này là ai? _____

14. Bài tập: gạch đỏ dưới chữ “vua” của Ma-thi-ơ 2:2 trong Kinh Thánh của quý vị.

15. Đọc Ma-thi-ơ 2:1.

Chúa Giê-xu sanh tại thành a) _____, trong vùng b) _____, là thành của vua lớn c) _____
 Chúa Giê-xu sinh ra tại đó vì Ngài là Đấng d) _____
 là Đấng sẽ cai trị cho đến e) _____ (Luca 1:33).

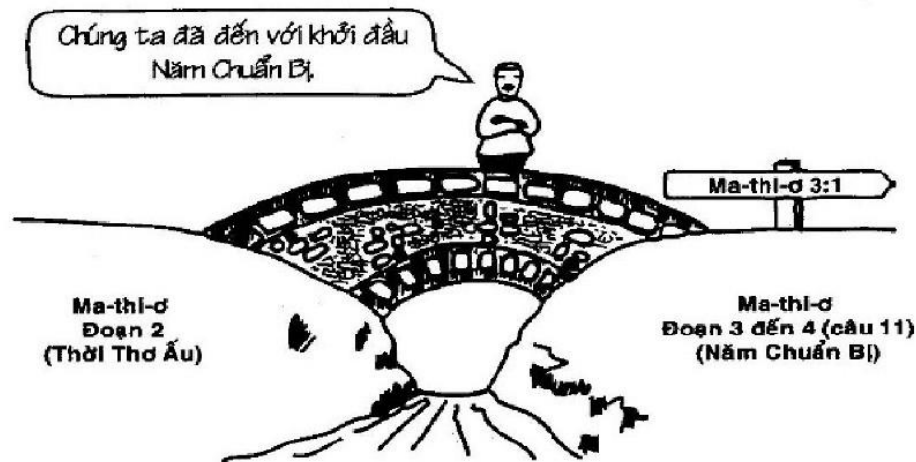
Năm Chuẩn Bị

16. Câu nào sau đây cho biết Chúa Giê-xu đến sống tại Na-xa-rét?

_____ Ma-thi-ơ 2:1 _____ Ma-thi-ơ 2:14 _____ Ma-thi-ơ 2:23

17. Trong Năm Chuẩn Bị, Chúa Giê-xu sinh sống tại thành a) _____ thuộc vùng b) _____
 nhưng hầu hết thì giờ trong năm này Ngài thường xa nhà để yểm trợ Giảng Báp-tít ở miền nam, bên bờ sông c) _____, thuộc hai vùng d) _____
 và e) _____ nơi Ngài thi hành chức vụ chính.

18. Do đó, Ma-thi-ơ mở đầu bản kỹ thuật Năm Chuẩn Bị từ việc Giảng Báp-tít đang giảng bên sông Giô-đanh. Theo lời giảng của Giảng Báp-tít, vì sao dân chúng phải ăn năn? Xin đọc Ma-thi-ơ 3:2




19. **Bài tập:** viết cẩn thận trong Kinh Thánh của quý vị phía trên Ma-thi-ơ 3:1 chữ “Chuẩn Bị” rồi gạch đỏ bên dưới, như quý vị đã làm với cây cầu đầu tiên.
20. Thời xưa, vua có sứ giả đi trước để chuẩn bị cho dân chúng đón vua đến. Ai là sứ giả cho vua Giê-xu, là người đã dọn đường cho Vua Giê-xu trong Năm Chuẩn Bị? _____
21. Xem hình 2 trong phụ lục 6.
- a) Ở đây ai đang làm phép báp-têm? _____
- b) Ai đang chịu báp-têm? _____
- c) Việc này xảy ra trong năm nào? _____
22. Giảng Báp-tít giữ vai trò quan trọng trong Nước Thiên Đàng vì ông là a) _____ của b) _____ và là người dọn đường cho Chúa Giê-xu.

23. Trong đoạn nào, Ma-thi-ơ nêu cho chúng ta:
- a) Phần Giới Thiệu? Đoạn _____
- b) Thời Thơ Ấu? Đoạn _____
- c) Năm Chuẩn Bị? Đoạn _____ đến _____ (c 11)
- Nếu chưa nhớ, quý vị xem lại trang tiêu đề của bài này.

Năm Được Mến Mộ

24. Đọc Ma-thi-ơ 4:12, 13. Theo các câu này:
- a) Cho đến lúc này, Chúa Giê-xu đang sống tại thành nào? _____
- b) Bây giờ Ngài đến sống ở đâu? _____
25. Câu nào sau đây nói đến khởi đầu Năm Được Mến Mộ?
 _____ Ma-thi-ơ 2:1 _____ Ma-thi-ơ 2:23 _____ Ma-thi-ơ 4:12, 13



26. **Bài tập:** xin quý vị viết chữ “Được Mến Mộ” trên Ma-thi-ơ 4:12 trong Kinh Thánh rồi gạch dưới bằng bút đỏ.
27. Bây giờ, quý vị tìm ba cây cầu đã đánh dấu trong Kinh Thánh đến khi tìm thấy thật dễ dàng.

28. Năm Được Mến Mộ rất khác với năm trước, vì Giăng Báp-tít không thể rao giảng Nước Thiên Đàng được nữa.

Vì sao Giăng không giảng được? Xin đọc Ma-thi-ơ 4:12

29. Xem hình 4 trong phụ lục 6

- a) Sau khi Giăng bị tù, ai tiếp nối chức vụ của Giăng để rao giảng sứ điệp Nước Trời? _____
- b) Chúa Giê-xu đang giảng ở đối diện thành nào? _____
- c) Tại biển nào? _____
- d) Trong năm nào của chức vụ Ngài? _____

30. Sau khi so sánh Ma-thi-ơ 3:1, 2 với Ma-thi-ơ 4:17, xin chọn câu trả lời đúng dưới đây. Vào đầu chức vụ của Chúa Giê-xu, lời giảng của Ngài:

- a. Giống y hệt lời giảng của Giăng Báp-tít.
- b. Giống hầu hết sứ điệp của Giăng Báp-tít.
- c. Hoàn toàn khác sứ điệp của Giăng Báp-tít.

31. Giăng Báp-tít ở đâu:

- a) Trong Năm Chuẩn Bị Bên sông _____
- b) Trong Năm Được Mến Mộ? _____

32. Xin xem hình 5 trong phụ lục 6.

- a) Giăng Báp-tít ở đâu? _____
- b) Đây là hình của năm nào? _____

33. Trong năm chức vụ nào của Chúa Giê-xu, rất nhiều người đến nghe:

- a) Chúa Giê-xu giảng về Nước Thiên Đàng? _____
- b) Giăng giảng về Nước Thiên Đàng? _____

34. Năm Khổ Nạn mở đầu với hành động tàn ác của vua Hê-rốt. Đó là hành động nào? Xin đọc Ma-thi-ơ 14:10, 11

35. Xem hình 8 trong phụ lục 6.

- a) Hình 8 cho thấy vĩ nhân nào của Chúa đã chết? _____
- b) Thảm cảnh này xảy ra vào khởi đầu năm nào trong chức vụ của Chúa Giê-xu? _____

36. Quý vị có để ý khởi đầu của mỗi năm trong Ba Năm Chức Vụ của Chúa Giê-xu đều gắn liền với một biến cố trong đời sống Giăng Báp-tít không?

Trong Ba Năm Chức Vụ của Chúa Giê-xu, năm nào khởi đầu với:

- a) Sự giảng dạy của Giăng? Năm _____
- b) Giăng bị bỏ tù? Năm _____
- c) Giăng qua đời? Năm _____

37. Xem hình 7 trong phụ lục 6.

Ngoài Giăng ra, còn người nào khác đã chết trong Năm Khổ Nạn? _____

38. Thật thú vị khi để ý Giăng Báp-tít ra đời chỉ sáu tháng trước Chúa Giê-xu; ông cũng chết vào đầu năm Chúa Giê-xu chịu chết, là Năm Khổ Nạn. Đọc kỹ hai câu sau:

- A. Chúa Giê-xu và Giăng đều sanh cùng một năm.
- B. Chúa Giê-xu và Giăng chết khoảng cùng năm.

Câu nào đúng?


- Chỉ "A" đúng
- Chỉ "B" đúng
- Cả "A" và "B" đều đúng
- Cả "A" và "B" đều sai



39. Ba hình trên đây về Giăng Báp-tít, mỗi hình tương ứng với một năm khác nhau trong Ba Năm Chức Vụ của Chúa Giê-xu. Hình nào tương ứng với:

- a) Năm Chuẩn Bị? Hình _____
 b) Năm Được Mến Mộ? Hình _____
 c) Năm Khổ Nạn? Hình _____

Vì vậy, cây cầu này đưa chúng ta đến Năm Khổ Nạn.



40. **Bài tập:** viết chữ “khổ nạn” trong Kinh Thánh của quý vị phía trên Ma-thi-ơ 14:1, rồi gạch dưới chữ này bằng bút đỏ.
 41. Tập tìm bốn cây cầu đã được đánh dấu trong Kinh Thánh quý vị đến khi tìm được thật dễ dàng.

42. Xin lưu ý hai biến cố đầu tiên được kể trong Ma-thi-ơ 14.

1. Vụ giết Giăng Báp-tít.
2. Cho năm ngàn người ăn.

Cả hai biến cố này thuộc trong Năm _____, và xảy ra vào đầu năm ấy.

43. Năm Khổ Nạn khởi đầu với hai biến cố lớn. Đó là những biến cố nào?

- a) Vụ giết _____
- b) Cho _____ ăn.

44. Trong suốt năm này, ngày càng thấy rõ rằng đám đông không muốn nước của tình yêu và bình an mà Chúa Giê-xu đem đến cho họ, và họ bắt đầu từ bỏ Ngài.

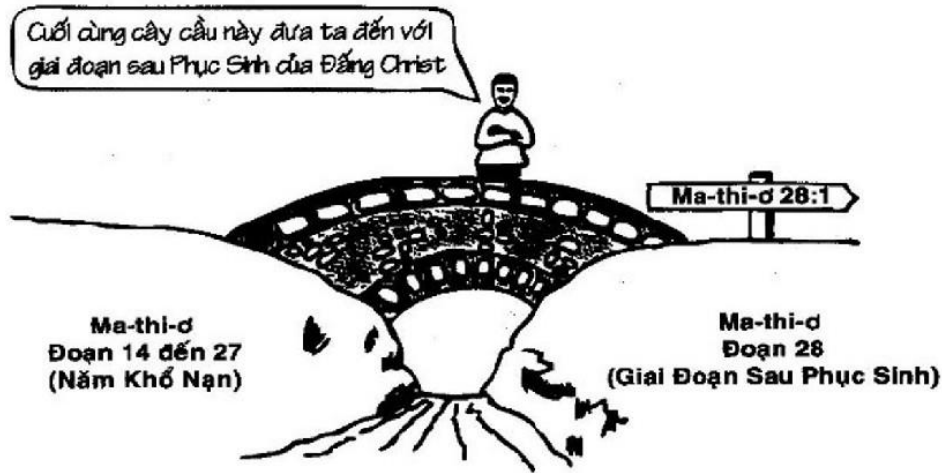
Năm cuối này trong chức vụ của Chúa Giê-xu được gọi là năm nào? _____

45. Năm Khổ Nạn, khởi đầu với sự chết của Giăng Báp-tít và nuôi năm ngàn người ăn đã kết thúc khi Chúa Giê-xu được đội vương miện như vua — nhưng là vương miện của sự nhục báng.

- a) Loại vương miện nào?
Xin đọc Ma-thi-ơ 27:29 _____
- b) Họ đã đặt trên đầu Ngài danh hiệu gì để nhục báng Ngài?
Đọc Ma-thi-ơ 27:37 _____


Giai Đoạn Sau Phục Sinh

46. Ngợi khen Chúa! Vua chúng ta không ở luôn trong mộ. Đức Chúa Trời đã khiến Ngài từ kẻ chết sống lại. Vào ngày nào của tuần lễ? Xin đọc Ma-thi-ơ 28:1 _____




47. **Bài tập:** dùng bút đỏ viết tiêu đề “Giai Đoạn Sau Phục Sinh” trên Ma-thi-ơ 28:1 để đánh dấu khởi đầu giai đoạn cuối này.
48. Tìm **toàn bộ** năm cây cầu từng cây một, cho đến khi quý vị hoàn oàn biết chắc mình tìm thấy dễ dàng.
49. Quý vị đã đánh dấu trong Ma-thi-ơ 28:19 là **địa danh liên hệ** cho bước cuối này rồi, là **đời sống phục sinh**.
Đại Mạng Lệnh mà Đấng Christ phục sinh ban cho các môn đồ Ngài chính là đem Tin Lành đến cho _____
50. Trong Đại Mạng Lệnh, Đấng Christ Phục Sinh truyền môn đồ Ngài đào tạo muôn dân thành môn đồ.
Chủ đề của sứ điệp và lời làm chứng của Ngài cho Muôn Dân là gì? Đọc Ma-thi-ơ 24:14 _____
51. Sách “Công Vụ Các Sứ Đồ” là khởi đầu sự ứng nghiệm Đại Mạng Lệnh. Các trang sách này nói đến bước tiến lạ lùng của Tin Lành từ Giê-ru-sa-lem đến kinh đô Đế Quốc La Mã là thành phố _____

52. Cuối cùng, Cơ đốc nhân đã đến được kinh đô La Mã mang theo sứ điệp của Đấng Christ Phục Sinh; trong số Cơ đốc nhân này có nhà truyền giáo vĩ đại Phao-lô.
Xem câu cuối của câu chuyện này trong Công Vụ 28:11.
Chủ đề sứ điệp của Phao-lô tại Rô-ma là gì? _____
53. “Sách Công Vụ Các Sứ Đồ” và mọi sách khác của Tân Ước nói về sự ứng nghiệm Đại Mạng Lệnh do Vua của chúng ta để giảng Nước Thiên Đàng cho muôn dân. Các sách này thuộc về giai đoạn nào trong năm giai đoạn cuộc đời của Chúa Giê-xu? _____
54. Chúng ta hiện đang sống trong giai đoạn nào của Năm Giai Đoạn? _____



55. Trong bài sau, chúng ta sẽ học cách tìm một biến cố thuộc giai đoạn nào trong đời sống Đấng Christ. Vì vậy, chúng ta sẽ chờ học xong mới làm bài thi.

BÀI 4B: CẤU TRÚC CỦA PHÚC ÂM MA-THI-Ơ



Phúc Âm Ma-thi-ơ có nhiều chuyện tích rất hay như chúng ta thấy trong những hình này. Nhưng quý vị có biết chuyện tích nào thuộc giai đoạn nào trong đời sống Đấng Christ không? Trong bài này, Tôi sẽ chỉ cho quý vị nhận biết mỗi biến cố thuộc giai đoạn nào.

B : Ma-thi-ơ 20:29-34



1. Xem lại các hình vẽ trong phụ lục 6.

Lưu ý: trước khi trả lời mỗi câu dưới đây, xin xem kỹ hình vẽ.

- a) Hình 1, 2 và 3 thuộc cùng một năm chức vụ của Chúa Giê-xu. Xin cho biết năm nào? _____
- b) Hình 4, 5 và 6 ứng năm nào? _____
- c) Hình 7, 8 và 9 ứng với năm nào? _____

Thời Thơ Ấu (với Thời Thiếu Nhi Và Thanh Niên)

2. Cho đến nay, chúng ta biết chủ đề chính của Ma-thi-ơ là a) _____, và **Giai Đoạn Đầu** trong cuộc đời Chúa Giê-xu là b) _____. Thiên sứ Gáp-ri-ên cho Ma-ri biết Chúa Giê-xu sẽ là c) _____, Đấng sẽ ngồi trên ngai của tổ phụ Ngài là d) _____ đến đời đời; vì vậy, Ngài sẽ được sanh ra tại thành e) _____, là thành của f) _____ tổ phụ Ngài. Cùng năm Ngài ra đời, sứ giả của Ngài là g) _____ cũng ra đời, và vì vậy, Giáng ra đời cũng tương ứng với Thời h) _____. Chúng ta cũng biết Ma-thi-ơ không nói về i) _____ của Chúa Giê-xu. Tuy nhiên, ta thấy trong Thời Thơ Ấu và thanh xuân, Chúa Giê-xu sống gần j) _____ năm tại thành k) _____, nơi Ngài làm nghề l) _____.

Năm Chuẩn Bị

3. Giai Đoạn Thứ Nhì được Ma-thi-ơ thuật lại là Năm a) _____, là năm cuối Ngài sống tại thành b) _____. Đầu Ngài sống trong vùng c) _____, khu vực chính của chức vụ Ngài lại ở phía nam, bên bờ sông d) _____ nơi đây Ngài cộng tác với e) _____ trong các vùng f) _____ và g) _____.

Trong Năm Chuẩn Bị, nhiều đoàn dân đông kéo đến nghe Giảng Báp-tít giảng sứ điệp h) _____. Tuy nhiên, Chúa Giê-xu tương đối i) _____ trong Năm j) _____.

Thời Kỳ Được Mến Mộ

4. Sau khi sống gần ba mươi năm tại thành a) _____, Chúa Giê-xu đã đi nơi khác. Vì vậy, vào đầu Năm b) _____, Chúa Giê-xu đến sống tại thành phố bên hồ c) _____ bên bờ Biển d) _____, cũng thuộc vùng e) _____. Cũng vào đầu Năm Được Mến Mộ này, vua Hê-rốt bỏ f) _____ Giăng Báp-tít, vì vậy Chúa Giê-xu ngưng các chuyến đi về phía nam đến sông g) _____, nhưng thay vào đó, đã bắt đầu thi hành chức vụ của chính Ngài tại vùng h) _____, nơi đây nhiều đoàn dân đông kéo đến nghe Ngài. Vì vậy, Năm i) _____ còn được gọi là “Chức Vụ Tại j) _____.” Sứ điệp của Ngài cũng chính là sứ điệp Giăng đã giảng trong năm trước—tức là sứ điệp về k) _____.

Năm Khổ Nạn

5. Năm Khổ Nạn bắt đầu với hai biến cố quan trọng, a) _____ của Giăng Báp-tít bởi tay vua Hê-rốt và việc cho năm ngàn người b) _____. Năm này kết thúc với sự chết của Chúa Giê-xu tại thành c) _____. Vì vậy, chúng ta có hai cái chết trong cùng một năm, là cái chết của d) _____ và của e) _____. Vì vậy, năm này được gọi là Năm f) _____. Vào giữa năm đó, Chúa Giê-xu phải rời khỏi vùng g) _____ để đi về phía nam, trở lại hai vùng h) _____ và i) _____. Chúa Giê-xu chỉ trải qua một năm chức vụ Ngài tại vùng Ga-li-lê, tức là Năm j) _____, nhưng Ngài dành hai năm chức vụ ở phía Nam tại các vùng Giu-đê và Bê-rê, đó là Năm k) _____ và Năm l) _____.

Giai Đoạn Sau Phục Sinh

6. Giai Đoạn Cuối Cùng được Ma-thi-ơ thuật lại chính là giai đoạn a) _____ của Chúa Giê-xu. Giờ đây sống lại từ kẻ chết, Chúa Giê-xu truyền cho các môn đồ đem sứ điệp Nước Thiên Đàng đến cho muôn b) _____. Chúng ta cũng thấy Phao-lô giảng sứ điệp này thế nào tại c) _____, là kinh đô của đế quốc d) _____. Vì vậy, về công tác giảng đạo Nước Thiên Đàng, chức vụ ngày nay của chúng ta tương ứng – cũng y như chức vụ của Phao-lô—với Giai Đoạn e) _____. Sứ điệp chính của Ma-thi-ơ là f) _____, từ sự giáng sinh của vị vua tại thành g) _____ cho đến Đại Mạng Lệnh truyền đem sứ điệp của Nước Thiên Đàng đến cho muôn h) _____.

7. Xin xem phụ lục 7 (Lưu ý: bây giờ là bảy, không phải sáu). Phụ lục 7 cũng là những hình của Ba Năm Chức Vụ như phụ lục 6, nhưng nằm sai thứ tự. Viết Năm Chức Vụ của Chúa Giê-xu tương ứng với mỗi hình trong phụ lục 7:

- Hình 1. _____
Hình 2. _____
Hình 3. _____
Hình 4. _____
Hình 5. _____
Hình 6. _____
Hình 7. _____
Hình 8. _____
Hình 9. _____

8. Bây giờ đã đến lúc nắm vững những đoạn nào trong Ma-thi-ơ tương ứng với mỗi giai đoạn trong Năm Giai Đoạn này. Sách Ma-thi-ơ có bao nhiêu đoạn? Xem Kinh Thánh để trả lời.

9. Trong 28 đoạn này, Ma-thi-ơ kể ra Năm Giai Đoạn (và phần giới thiệu) của cuộc đời Chúa Giê-xu.

Trong đoạn 2, Ma-thi-ơ thuật lại giai đoạn nào trong Năm Giai Đoạn này? Xin xem tiêu đề quý vị đã viết trên Ma-thi-ơ 2 _____

10. Chúng ta biết giai đoạn thứ nhất, là Thời Thơ Ấu, bắt đầu với cây cầu thứ nhất (nói cách khác, từ Ma-thi-ơ 2:1). Phần giới thiệu ở ngay trước tiêu đề: “Thời Thơ Ấu”

Phần giới thiệu nằm ở đoạn mấy của Ma-thi-ơ? Đoạn _____

11. Vì vậy, chúng ta đã biết Ma-thi-ơ nói về:

- Phần giới thiệu trong đoạn 1.
- Thời Thơ Ấu trong đoạn 2.

Ma-thi-ơ nói đến giai đoạn nào trong đoạn 3 và đoạn 4 (tới câu 11)? Xin xem tiêu đề quý vị viết trên đoạn 3 _____

12. Vì vậy, xin lưu ý khởi đầu của mỗi giai đoạn được đánh dấu bởi tiêu đề quý vị đã viết.

Giai đoạn nào bắt đầu với tiêu đề quý vị đã viết trên Ma-thi-ơ 4 (câu 12)? _____

13. Giai đoạn nào bắt đầu ở Ma-thi-ơ 14:1?

Xem tiêu đề ở trên Ma-thi-ơ 14:1 _____

14. Mọi chuyện trong Năm Được Mến Mộ trải dài trong tất cả các đoạn từ tiêu đề ở Ma-thi-ơ 4 (câu 12) đến tiêu đề kế tiếp trong Ma-thi-ơ 14. Xin đếm số đoạn nói đến Năm Được Mến Mộ trong Kinh Thánh của quý vị.

Quý vị phải tính cả đoạn 4 rồi đến mọi đoạn kế cho đến tiêu đề tiếp theo trong Ma-thi-ơ 14:1, nhưng đừng tính đoạn 14, vì đoạn này đi với giai đoạn kế tiếp—là Năm Khổ Nạn.

Bao nhiêu đoạn ứng với giai Đoạn Ba—còn gọi là Năm Được Mến Mộ? _____

15. Như vậy, xin quý vị nhớ rằng điều nào xảy ra trong mười đoạn này, tức từ Ma-thi-ơ 4 (câu 12) đến cuối đoạn 13, đều thuộc về Năm: _____

Lưu ý: chúng ta đừng quá cứng nhắc về trình tự thời gian của các biến cố trong sách Phúc Âm. Nhưng sách Phúc Âm Ma-thi-ơ theo đúng thứ tự thời gian đủ để xác lập cấu trúc cơ bản này làm phần hướng dẫn chung.

16. Ví dụ, chúng ta biết câu chuyện Chúa chữa lành người phung ở Ma-thi-ơ 8. Vậy có nghĩa biến cố này xảy ra trong Năm Được Mến Mộ, vì đoạn 8 ở giữa Ma-thi-ơ 4 (câu 12) đến đoạn 13.

Mặt khác, chúng ta biết câu chuyện người trai trẻ giàu có trong Ma-thi-ơ 19 không ứng với Năm Được Mến Mộ, vì không ở giữa đoạn 4 (câu 12) đến 13 của Ma-thi-ơ.

Biến cố nào sau đây xảy ra trong Năm Được Mến Mộ?

- a. Bài Giảng Trên Núi trong Ma-thi-ơ 5-7.
- b. Phép báp-têm của Chúa Giê-xu trong Ma-thi-ơ 3.
- c. Ấn dụ về người gieo giống trong Ma-thi-ơ 13.
- d. Chúa chữa lành người bại trong Ma-thi-ơ 9.

17. Vì vậy, mỗi giai đoạn mở đầu với tiêu đề (cây cầu) của Giai Đoạn đó như đã được đánh dấu trong Kinh Thánh của quý vị, và kết thúc với tiêu đề của Giai Đoạn tiếp theo. Mỗi đoạn nằm giữa hai tiêu đề thì thuộc về giai đoạn ấy.

Xin quý vị đếm có bao nhiêu đoạn Kinh Thánh tương ứng với Năm Khổ Nạn (giữa tiêu đề “Khổ Nạn” trong Ma-thi-ơ 14 với “Giai Đoạn Sau Phục Sinh” trong Ma-thi-ơ 28).

Có bao nhiêu đoạn tương ứng với Năm Khổ Nạn? _____

18. Giai đoạn nào (hoặc Phần Giới Thiệu) được tường thuật trong:

- a) Ma-thi-ơ 11-27? _____
- b) Ma-thi-ơ 4 (câu 12) đến 13? _____
- c) Ma-thi-ơ 2? _____
- d) Ma-thi-ơ 3 đến 4 (câu 11)? _____
- e) Ma-thi-ơ 1? _____
- f) Ma-thi-ơ 28? _____

19. Xin quý vị xem các tiêu đề đã đánh dấu trong các câu Kinh Thánh, viết bên dưới đoạn hoặc những đoạn trong Ma-thi-ơ tương ứng với:

- a) Phần Giới Thiệu Ma-thi-ơ _____
- b) Thời Thơ Ấu Ma-thi-ơ _____
- c) Năm Chuẩn Bị Ma-thi-ơ _____ đến _____
- d) Năm Được Mến Mộ Ma-thi-ơ _____ đến _____
- e) Năm Khổ Nạn Ma-thi-ơ _____ đến _____
- f) Giai Đoạn Sau Phục Sinh Ma-thi-ơ _____

20. Xin xem bảng phân tích Phúc Âm Ma-thi-ơ trong Phụ Lục 11.

Điều nào sau đây được nhắc đến trong bảng phân tích này?
Viết chữ "Có" hoặc "Không" trước mỗi trường hợp.

- a) _____ Năm Giai Đoạn (và Phần Giới Thiệu)
- b) _____ Các Địa Danh Liên Hệ
- c) _____ Các đoạn trong Ma-thi-ơ trong mỗi Giai Đoạn

21. Mỗi Giai Đoạn ngoại trừ một Giai Đoạn đều mở đầu với câu đầu tiên của đoạn Kinh Thánh nên do đó không có vấn đề gì.

Xin xem tiêu đề viết trên
Ma-thi-ơ 4 (câu 12).

Giai Đoạn duy nhất

nào bắt đầu từ giữa đoạn? _____

22. Do đó, rất dễ lộn với sự kiện trong Ma-thi-ơ 4 (xin xem Ma-thi-ơ 4). Mọi điều trong Ma-thi-ơ 4 sau c. 12, hay sau tiêu đề viết trên Ma-thi-ơ 4 (c.12), đều thuộc về Năm _____

23. Nhưng sự cảm dỗ Chúa Giê-xu trong Ma-thi-ơ 4:1-11 không thuộc Năm Được Mến Mộ, mà thuộc Năm _____ vì xuất hiện trước tiêu đề Ma-thi-ơ 4 (câu 12).

24. Sự kiện nào trong Ma-thi-ơ 4 thuộc Năm Chuẩn Bị _____

25. Năm Mến Mộ mở đầu từ đâu trong Ma-thi-ơ 4? 4: _____

26. Xem các biến cố sau trong cuộc đời Chúa Giê-xu. Viết vào khoảng trống tên giai đoạn của biến cố đó.

(Nên nhớ có Năm Giai Đoạn và Phần Giới Thiệu)

- a) Chúa Giê-xu được Giảng làm báp-têm trong Ma-thi-ơ 3 _____
- b) Bài Giảng Trên Núi trong Ma-thi-ơ 5-7 _____
- c) Tàn sát con trẻ trong Ma-thi-ơ 2 _____
- d) Chúa Giê-xu gọi Ma-thi-ơ trong Ma-thi-ơ 9 _____
- e) Báo tin Chúa Giê-xu giáng sinh trong Ma-thi-ơ 1 _____
- f) Chúa Giê-xu vào thành Giê-ru-sa-lem trong Ma-thi-ơ 21 _____
- g) Chọn mười hai sứ đồ trong Ma-thi-ơ 10 _____
- h) Đại Mạng Lệnh Chúa truyền cho người thuộc về Ngài trong Ma-thi-ơ 28 _____
- i) Ẩn dụ Người Gieo Giống trong Ma-thi-ơ 13 _____
- j) Những cảm dỗ Chúa Giê-xu lúc đầu Ma-thi-ơ 4 _____
- k) Chúa Giê-xu rao giảng Nước Trời tại Ga-li-lê trong Ma-thi-ơ 3:23 _____
- l) Chúa Giê-xu dẹp yên cơn bão trong Ma-thi-ơ 8 _____

27. Xin xem lại ba hình “A”, “B” và “C” trên trang tiêu đề bài 4B. Xin lưu ý đã có sẵn địa chỉ Kinh Thánh.

Mỗi Hình tương ứng với Giai Đoạn nào trong Năm Giai Đoạn?

Hình A. _____

Hình B. _____

Hình C. _____

28. Xin mở Ma-thi-ơ đến bất kỳ đoạn nào và biến cố nào. Thực tập nhận diện biến cố này và đoạn này thuộc vào Giai Đoạn nào. Cứ làm tiếp như vậy cho đến khi quý vị hoàn toàn vững tin mình đã nắm vững Năm Giai Đoạn trong đời sống Đấng Christ theo Phúc Âm Ma-thi-ơ.

29. Bây giờ xin quý vị làm bài kiểm 4A và 4B (trang 235).



PHẦN 5

Bài 5A: Gia Phở Chúa Giê-xu (1) – (Ma-thi-ơ 1:1-17)

Bài 5B: Gia Phở Chúa Giê-xu (2) – (Ma-thi-ơ 1:1-17)

Học xong phần này, quý vị sẽ đạt được những mục tiêu sau:

1. Giải thích ý nghĩa chữ “Gia Phở” và cho biết có bao nhiêu danh sách tổ phụ của Chúa Giê-xu, và có trong các sách Phúc Âm nào.
2. Nêu tên bốn tên chính trong Gia Phở của Chúa Giê-xu được chép trong Ma-thi-ơ và thời điểm phỏng chừng của mỗi tên chính này.
3. Trình bày câu chuyện về một số lời hứa của Đức Chúa Trời về nước trong Cựu Ước, từ Sáng Thế Ký đến sự ứng nghiệm của chúng trong Ma-thi-ơ.